



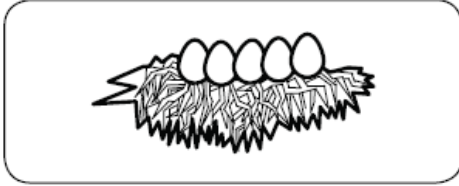
E-125
Solange Arenas.

MATEMÁTICA


SEGUNDO B

Calculando

1. Observa y responde:



Nido 1



Nido 2

¿Cuántos huevos agregarías en el nido 1 para que tuviera igual número de huevos que el nido 2?

Dibújalos y completa:


Agregaría huevos.

¿Cuántos huevos agregarías en el nido 1 para que tuviera más huevos que el nido 2?


Dibújalos y completa:

Agregaría huevos.

2. Observa y responde:



Frutero 1



Frutero 2

¿Cuántos plátanos le quitarías al frutero 1 para que tuviera igual número de plátanos que el frutero 2?

Táchalos y completa:

Quitaría plátanos.

¿Cuántos plátanos le quitarías al frutero 1 para que tuviera menos plátanos que el frutero 1?

Quitaría plátanos.