



Escuela Aviador Dagoberto Godoy F.
Prof. Susana Riveros Pinochet. PIE: DENISSE ORTEGA SOTO
Tercer año "A" HISTORIA.

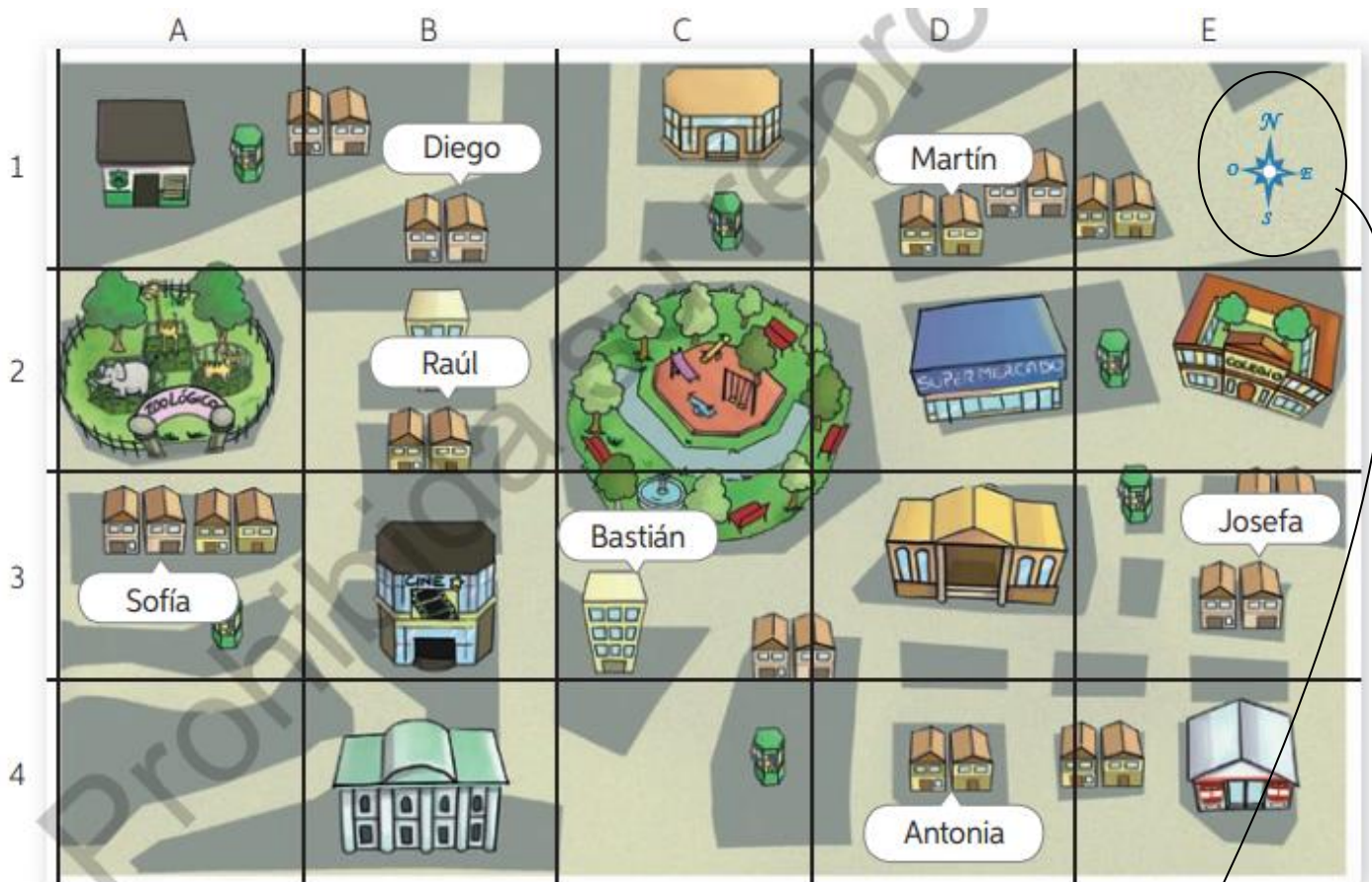
OA 7: Distinguir hemisferios, círculo del Ecuador, trópicos, polos, continentes y océanos del planeta en mapas y globos terráneos.

¿Cómo nos ubicamos en el entorno?

Los planos son representaciones de espacios pequeños, como una habitación; o más grandes, como ciudades. Los mapas son representaciones geográficas de la Tierra o de parte de ella.

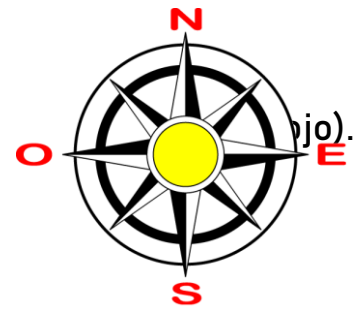
Ejemplo:

Barrio del Zoológico.

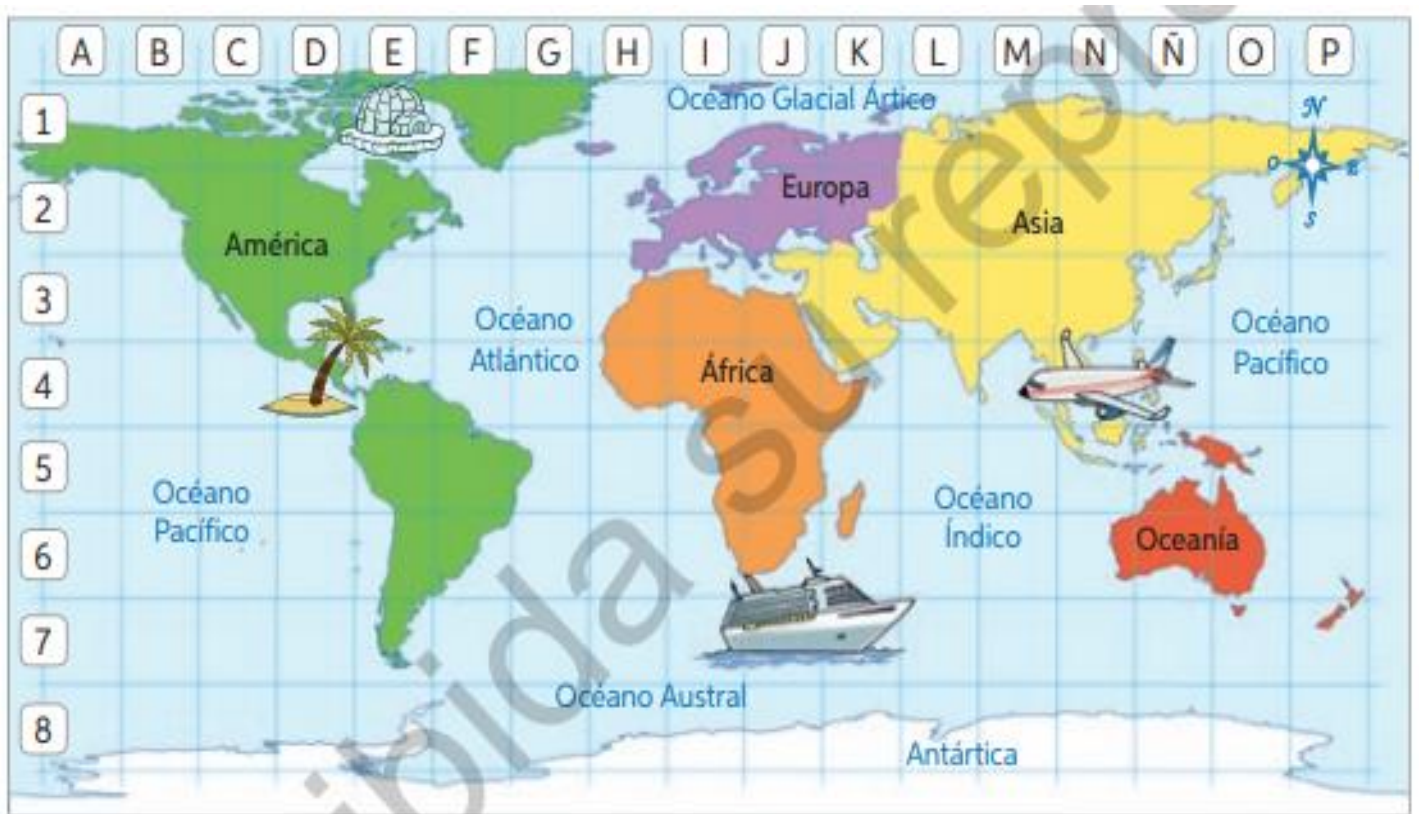


Si observamos el siguiente plano de esta ciudad, encontraremos LA ROSA DE LOS VIENTOS que señala los PUNTOS CARDINALES (NORTE, SUR, ESTE Y OESTE)

Te presento la ROSA DE LOS VIENTOS, la cual representa los 4 puntos cardinales: NORTE, SUR, ESTE, OESTE (las letras que están Si observamos el mapa anterior, podemos darnos cuenta que al OESTE de la plaza, encontramos el Zoológico y al ESTE encontramos el Supermercado.



Ahora bien, observa el siguiente mapa y responde las preguntas.



1. ¿Qué muestra el mapa? (señala lo que ves)

2. Completa la oración: “América está al _____ del océano Pacífico.

3. África está al _____ del océano atlántico.

4. Señala la ubicación de los objetos: Iglú: _____

Avión: _____ Barco: _____

Isla: _____